
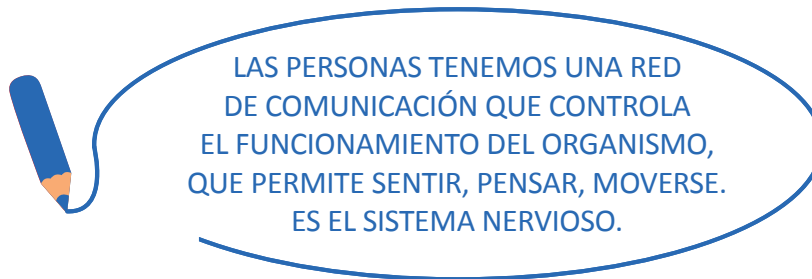


C S116 DÍA2

¿QUÉ LE PASÓ A MALENA?



¿CÓMO SE DIO CUENTA QUE SE PINCHABA?

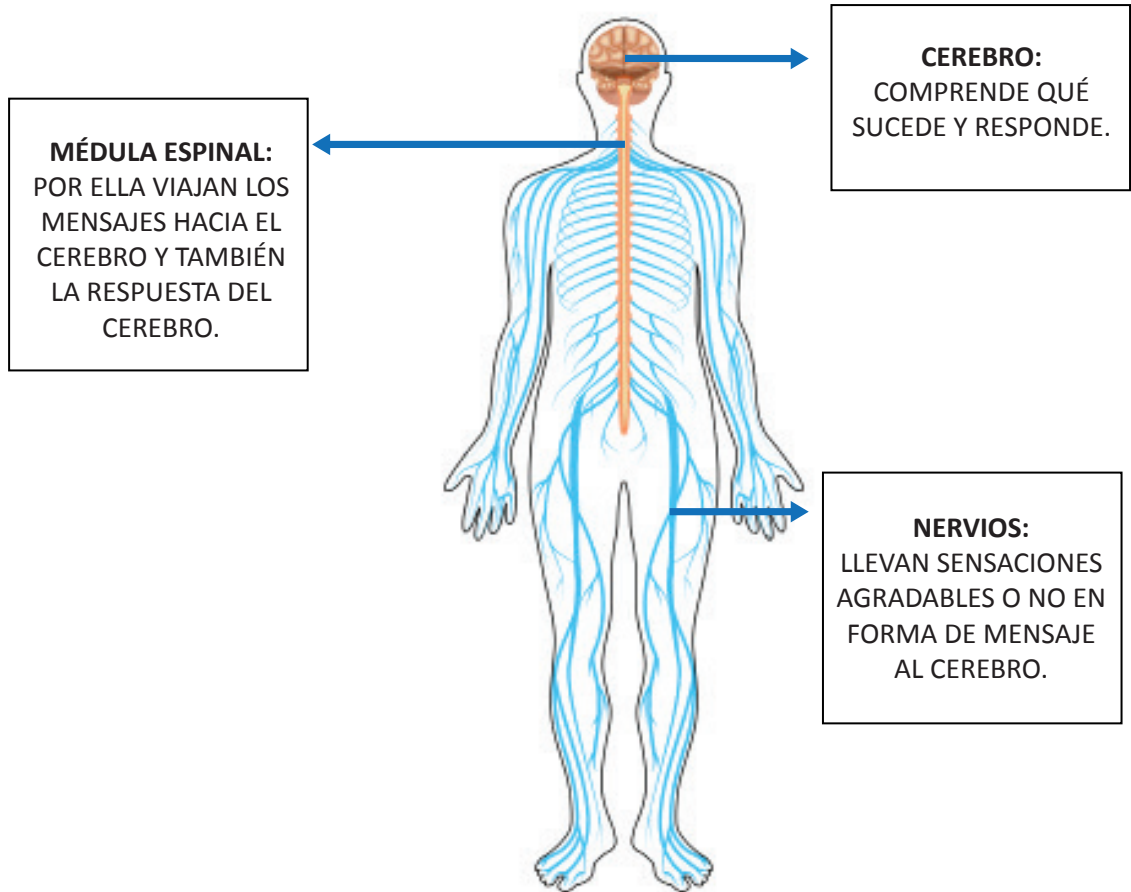


ESTE SISTEMA ESTÁ FORMADO POR NERVIOS, QUE SON COMO CABLES, QUE LLEVAN LA INFORMACIÓN HASTA EL CEREBRO PARA QUE EL CUERPO REACCIONE.

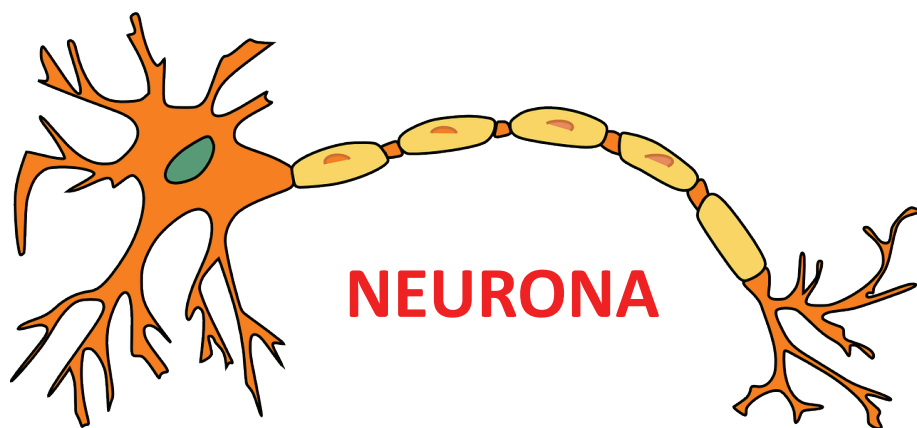
EJEMPLO: MALENA TOCÓ EL CACTUS, SE PINCHÓ. LOS NERVIOS LLEVARON LA INFORMACIÓN DEL DOLOR AL CEREBRO Y EL CEREBRO LE ORDENÓ A LOS MÚSCULOS DEL BRAZO QUE ALEJE SU MANO DEL CACTUS.

SI ACERCA SU MANO A UN OBJETO CALIENTE ¿QUÉ SUCEDERÁ?





EL SISTEMA NERVIOSO ESTÁ FORMADO POR MILLONES DE CÉLULAS NERVIOSAS QUE SE LLAMAN **NEURONAS**.

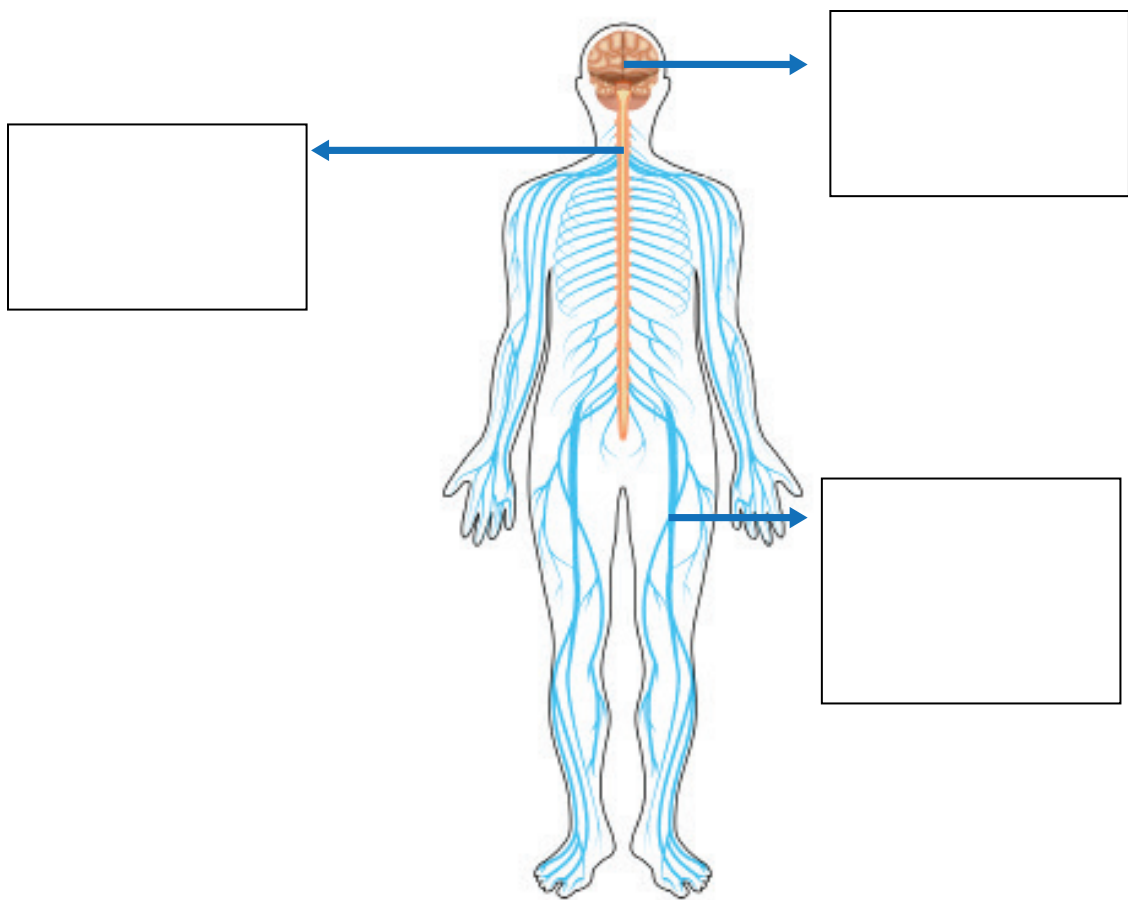




COMPLETA:

- LAS _____ SON LAS CÉLULAS QUE FORMAN EL SISTEMA NERVIOSO.
- LAS PARTES DEL _____ SON: EL CEREBRO, LA MÉDULA ESPINAL Y LOS NERVIOS.
- LOS _____ LLEVAN LAS SENSACIONES HASTA EL CEREBRO Y DESPUÉS LLEVAN LA RESPUESTA HASTA LOS MÚSCULOS.
- EL _____ PROCESA LAS SENSACIONES Y ELABORA LAS RESPUESTAS.
- POR LA _____ VIAJAN LOS MENSAJES DESDE Y HACIA EL CEREBRO.

ESCRIBE LAS PARTES DEL SISTEMA NERVIOSO EN LOS CUADROS QUE CORRESPONDA.



C S116 DÍA4

¿CÓMO NOS RELACIONAMOS CON EL MUNDO?

LAS PERSONAS NOS RELACIONAMOS CON EL MEDIO QUE NOS RODEA A TRAVÉS DE LOS SENTIDOS: VISTA, OÍDO, GUSTO, TACTO Y OLFATO. ESTOS SENTIDOS LLEVAN LA INFORMACIÓN AL CEREBRO Y AQUÍ SE ELABORA UNA RESPUESTA PARA ESA INFORMACIÓN.



A TRAVÉS DE LOS SENTIDOS:

- **GUSTO** PERCIBIMOS LOS CUATRO SABORES: DULCE, AMARGO, SALADO Y ÁCIDO.
- **OÍDO** PODEMOS DIFERENCIAR SONIDOS DE RUIDOS.
- **VISTA** PERCIBIMOS LA REALIDAD QUE NOS RODEA.
- **TACTO** PERCIBIMOS SENSACIONES DE SUAVIDAD, ASPEREZA, RUGOSIDAD, FRÍO, CALOR , ETC.
- **OLFATO** PERCIBIMOS AROMAS Y PERFUMES.

ESCRIBE CINCO SENSACIONES QUE PERCIBAS CON CADA SENTIDO:

SENTIDO	ÓRGANO
VISTA	
OÍDO	
TACTO	
OLFATO	
GUSTO	

ESCRIBE LAS RESPUESTAS QUE GENERA NUESTRO CUERPO A LAS SIGUIENTES SENSACIONES:

SENSACIONES	RESPUESTAS
CUANDO TOCAS UN OBJETO CALIENTE.	
CUANDO ALGUIEN GRITA	
CUANDO SIENTES FRÍO EN UN DÍA DE INVIERNO	
CUANDO PRUEBAS UN ALIMENTO PICANTE.	

PIENSA EN LAS SIGUIENTES SITUACIONES Y ESCRIBE EN FRENTE EL ÓRGANO DEL SENTIDO CORRESPONDIENTE:

- SABOREAMOS UN RICO POSTRE: _____
- PERCIBIMOS EL OLOR A ROSAS: _____
- VEMOS UN RELÁMPAGO EN UN DÍA DE TORMENTA: _____
- SENTIMOS LA TEXTURA SUAVE DEL ALGODÓN: _____
- VEMOS EL AZUL DEL CIELO EN UN DÍA SOLEADO: _____

