

M S001 DÍA1

DÍA	MES	AÑO
-----	-----	-----

LOS NÚMEROS.

0

1

2

3

4

①

① ①

① ① ①

① ①
① ①

5

6

7

8

9

① ① ①
① ①

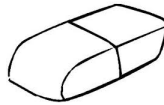
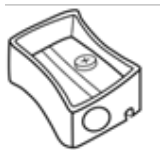

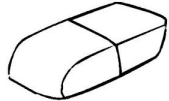
① ① ①
① ① ①

① ① ①
① ① ①
①

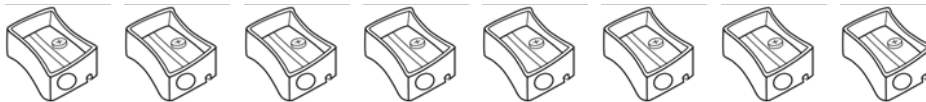
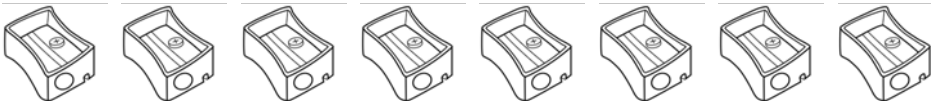
① ① ①
① ① ①
① ①

① ① ①
① ① ①
① ① ①

ENCIERRA SI HAY 1 Y UNE CON LÍNEA SI HAY 2.




ENCIERRA GRUPOS DE A 2.



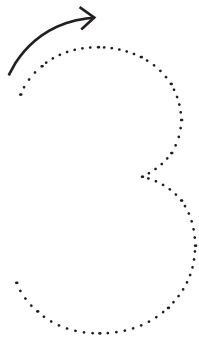
M S001 DÍA2

DÍA	MES	AÑO
-----	-----	-----


ENCIERRA 1 MOCHILA Y 2 LIBROS.



REPASA LOS NÚMEROS CON LÁPIZ Y COMPLETA.



SE LLAMA TRES



Handwriting practice lines with dotted numbers 3 for tracing.



M S002 DÍA5

DÍA

MES



AÑO

DIBUJA Y ESCRIBE CUÁNTOS PUNTOS HAY EN TOTAL.





HAY EN TOTAL = _____

4 + 3 = _____





HAY EN TOTAL = _____

6 + 2 = _____





HAY EN TOTAL = _____

4 + 4 = _____




HAY EN TOTAL = _____

5 + 4 = _____

EN LA CAJA HAY 27  Y PRESTO 4 ¿CUÁNTOS  ME QUEDAN?.

$$\begin{array}{r|l} 2 & 7 \\ + & 4 \\ \hline \end{array}$$


$$\begin{array}{r|l} 2 & 7 \\ - & 4 \\ \hline \end{array}$$

RESPUESTA: ME QUEDAN..... 

EN UN EQUIPO HAY 10  Y SE AGREGAN 8 MÁS ¿CUÁNTOS  HAY?.

$$\begin{array}{r|l} 1 & 0 \\ + & 8 \\ \hline \end{array}$$

$$\begin{array}{r|l} 1 & 0 \\ - & 8 \\ \hline \end{array}$$

RESPUESTA: HAY..... 

COMPRÉ 25  Y COMÍ 5 ¿CUÁNTOS TENGO AHORA?.

$$\begin{array}{r|l} 2 & 5 \\ + & 5 \\ \hline \end{array}$$

$$\begin{array}{r|l} 2 & 5 \\ - & 5 \\ \hline \end{array}$$

RESPUESTA: AHORA TENGO..... 

ORDENA LOS RESULTADOS DE MAYOR A MENOR.

M S019 DÍA1

DÍA


MES

AÑO

RECUERDA:
EL **DOBLE** DE UN NÚMERO
SE OBTIENE
SUMANDO 2 VECES
ESE NÚMERO.
ASÍ: $1 + 1 = 2$

COMPLETA LOS CUADROS.

UNA



TIENE 2 PATAS

UNA



TIENE 2 ALAS

GALLINAS	PATAS
1	2
3	
4	
	10
7	
8	

ABEJAS	ALAS
1	2
2	
6	
	20
12	
14	

0 1 2 3 4 5 6 7 8 9

0 1 2 3 4 5 6 7 8 9

M S022 DÍA1

DÍA MES AÑO

RESUELVE Y RESPONDE.



MARÍA AYER PEGÓ 32 FIGURITAS Y HOY PEGÓ 24. ¿CUÁNTAS FIGURITAS PEGÓ EN TOTAL?.

CUENTA

RESPUESTA: _____



FEDE COMPRÓ 17 VASOS BLANCOS Y 30 AZULES. ¿CUÁNTOS VASOS COMPRÓ FEDE?.

CUENTA

RESPUESTA: _____

RODEA LOS QUE NO PERTENECEN A LA FAMILIA DEL SETENTA.


ESCRIBILOS Y REPRESENTALOS:

= _____
 = _____
 = _____

M S025 DÍA1

DÍA	MES	AÑO
-----	-----	-----

ESCRIBE SUS NOMBRES.




DIBUJA Y ESCRIBE SUS CARACTERÍSTICAS.


EL RECTÁNGULO

CARACTERÍSTICAS :


TIENE



LADOS.



MÁS LARGOS Y



MÁS CORTOS.

