

M S116 DÍA1

COMPLETA LOS GLOBOS MULTIPLICANDO.



6×5



5×7



6×9



6×3



5×9



4×7



3×9



6×7



4×9



6×8

COMPLETA LOS GLOBOS DIVIDIENDO.



$24 : 3$



$36 : 4$



$30 : 5$



$24 : 6$



$40 : 5$



$32 : 4$



$36 : 6$



$20 : 5$



$21 : 3$



$24 : 3$

UNE CON LOS CÁLCULOS CORRESPONDIENTES.

18

3 X 6
2 X 8
2 X 9
4 X 5
6 X 3
3 X 7

30

3 X 9
3 X 10
2 X 10
6 X 5
5 X 6
4 X 7

M S116 DÍA2

REPASA LAS TABLAS.
COMPLETA EL CUADRO.

x	0	1	2	3	4	5	6	7	8	9	10
2				6	8	10		14			
3			6					21			
4					16			28			
5			10				30	35			
6						30		42			

OBSERVA LAS COINCIDENCIAS.

1

2 X 3 Y 3 X 2 ES IGUAL A

2 x 4 y 4 x 2 ES IGUAL A

2 X 5 Y 5 X 2 ES IGUAL A

5 X 6 Y 6 X 5 ES IGUAL A

¡ESTO TE AYUDA PARA
RECORDAR LAS TABLAS!

2

RESUELVE.

105
X4

2.320
X3

560
X5

97
X6

4.251
X2

394
X6

1.008
X6

916
X5

2.614
X4

6

M S116 DÍA3

ESTA ES LA TABLA DEL 7.

¡RECUERDA! ESTUDIARLA TODOS LOS DÍAS.

$7 \times 0 = 0$

$7 \times 1 = 7$

$7 \times 2 = 14$

$7 \times 3 = 21$

$7 \times 4 = 28$

$7 \times 5 = 35$

$7 \times 6 = 42$

$7 \times 7 = 49$

$7 \times 8 = 56$

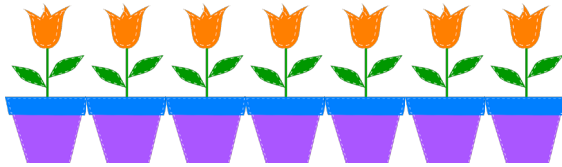
$7 \times 9 = 63$

$7 \times 10 = 70$



OBSERVA Y RESPONDE.


1



YO VOY A COMPRAR 3 MACETAS CON FLORES AZULES, 5 CON ROJAS Y 2 CON ANARANJADAS.

¿CUÁNTAS FLORES LLEVA EN TOTAL?


2



YO VOY A LLEVAR 6 MACETAS CON FLORES AZULES, 7 CON FLORES ANARANJADAS Y 4 CON FLORES ROJAS.

¿CUÁNTAS FLORES LLEVA EN TOTAL?

3



QUIERO ARMAR MACETAS DE FLORES AMARILLAS. TENGO 119 FLORES Y EN CADA MACETA ENTRAN 7 FLORES.

YO VOY A LLEVAR 4 MACETA CON FLORES AZULES, 5 CON FLORES ANARANJADAS Y 8 CON FLORES ROJAS.

¿CUÁNTAS FLORES LLEVA EN TOTAL?

4



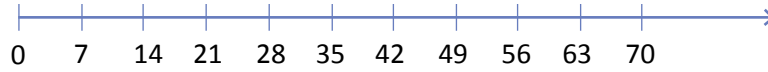
¿CUÁNTAS MACETAS NECESITA DON ALFREDO?

5

6

M S116 DÍA4

LA TABLA DEL 7 EN LA RECTA NUMÉRICA.



RESUELVE Y UBICA LOS RESULTADOS EN LA RECTA.

$7 \times 2 = \bigcirc$

$7 \times 6 = \bigcirc$

$7 \times 10 = \bigcirc$

$7 \times 5 = \bigcirc$

$7 \times 1 = \bigcirc$

$7 \times 3 = \bigcirc$

$7 \times 8 = \bigcirc$

$7 \times 4 = \bigcirc$


$7 \times 7 = \bigcirc$

$7 \times 0 = \bigcirc$

$7 \times 9 = \bigcirc$

AYUDA A OREJAS A JUNTAR LAS ZANAHORIAS.

SÓLO JUNTA LAS QUE ESTÁN EN LA TABLA DEL 7.
UNE DE MENOR A MAYOR.



RESUELVE Y UNE CON EL RESULTADO CORRECTO.



$7 \times 0 =$
$7 \times 1 =$
$7 \times 2 =$
$7 \times 3 =$
$7 \times 4 =$
$7 \times 5 =$
$7 \times 6 =$
$7 \times 7 =$
$7 \times 8 =$
$7 \times 9 =$
$7 \times 10 =$

ESCRIBE EL RESULTADO DE LOS CÁLCULOS QUE QUEDARON SIN UNIR.

M S116 DÍA5

¡ATENCIÓN!
¿EN QUÉ OTRAS TABLAS ENCONTRARÁS
LOS RESULTADOS DE LA TABLA DEL 7?

7 X 0 = 0 → EN LA TABLA DEL 2 = 2 X 0, EN LA DEL 3 = 3 X 0 EN 4 = 4 X 0, 5 = 5 X 0, 6 = 6 X 0

7 X 2 = ○ → EN LA TABLA _____

7 X 3 = ○ → EN LA TABLA _____

7 X 4 = ○ → EN LA TABLA _____

7 X 5 = ○ → EN LA TABLA _____

7 X 6 = ○ → EN LA TABLA _____

SALTOS DE 7 EN 7.

